

**Формирование ключевых  
компетенций обучающихся по  
истории в процессе подготовки  
к ГИА**

Единый государственный  
экзамен





Документы ЕГЭ (размещены на сайте ФИПИ):

Спецификация

Кодификатор

Демоверсия

**«УТВЕРЖДАЮ»**  
Директор  
ФГБНУ «Федеральный институт  
педагогических измерений»



О.А. Решетникова  
2019 г.

**«СОГЛАСОВАНО»**  
Председатель  
Научно-методического совета  
ФГБНУ «ФИПИ» по истории



Е.И. Пивовар  
«23» октября 2019 г.

## Единый государственный экзамен по ИСТОРИИ

### Спецификация контрольных измерительных материалов для проведения в 2020 году единого государственного экзамена по истории

подготовлена Федеральным государственным бюджетным  
научным учреждением

«ФЕДЕРАЛЬНЫЙ ИНСТИТУТ ПЕДАГОГИЧЕСКИХ ИЗМЕРЕНИЙ»

**Спецификация  
контрольных измерительных материалов  
для проведения в 2020 году единого государственного экзамена  
по ИСТОРИИ**

**1. Назначение контрольных измерительных материалов (КИМ) ЕГЭ**

Единый государственный экзамен (ЕГЭ) представляет собой форму государственной итоговой аттестации, проводимой в целях определения соответствия результатов освоения обучающимися основных образовательных программ среднего общего образования соответствующим требованиям федерального государственного образовательного стандарта или образовательного стандарта. Для указанных целей используются контрольные измерительные материалы (КИМ), представляющие собой комплексы заданий стандартизированной формы.

ЕГЭ проводится в соответствии с Федеральным законом «Об образовании в Российской Федерации» от 29.12.2012 № 273-ФЗ и Порядком проведения государственной итоговой аттестации по образовательным программам среднего общего образования, утверждённых приказом Минпросвещения России и Рособрнадзора от 07.11.2018 № 190/1512.

**2. Документы, определяющие содержание КИМ ЕГЭ**

Содержание КИМ определяется на основе Федерального компонента государственного стандарта среднего (полного) общего образования, базовый и профильный уровни (приказ Минобрнауки России от 05.03.2004 № 1089) и Историко-культурного стандарта, являющегося частью Концепции нового учебно-методического комплекса по Отечественной истории.

**3. Подходы к отбору содержания и разработке структуры КИМ ЕГЭ**

Экзаменационная работа охватывает содержание курса истории России с древности по настоящее время с включением элементов всеобщей истории (история войн, дипломатии, культуры, экономических связей и т.п.) и нацелена на выявление образовательных достижений выпускников средних общеобразовательных учреждений.

Обобщённый план варианта КИМ ЕГЭ 2020 года  
по ИСТОРИИ

Уровни сложности заданий: Б – базовый; П – повышенный; В – высокий.


№	Проверяемые умения, виды деятельности	Проверяемое содержание – раздел курса	Коды проверяемых требований к уровню подготовки (по кодификатору)	Уровень сложности задания	Максимальный балл за выполнение задания	Примерное время выполнения задания (мин.)
<b>Часть 1</b>						
1	Систематизация исторической информации (умение определять последовательность событий)	С древнейших времён до начала XXI в. (история России, история зарубежных стран)	2.6	П	1	3
2	Знание дат (задание на установление соответствия)	VIII – начало XXI в.	1.1–1.5	Б	2	3
3	Определение терминов (множественный выбор)	Один из периодов, изучаемых в курсе истории России	1.1–1.5	Б	2	3

**«УТВЕРЖДАЮ»**  
Директор  
ФГБНУ «Федеральный институт  
педагогических измерений»



О.А. Решетникова  
2019 г.

**«СОГЛАСОВАНО»**  
Председатель  
Научно-методического совета  
ФГБНУ «ФИПИ» по истории



Е.И. Пивовар  
«23» октября 2019 г.

### Единый государственный экзамен по ИСТОРИИ

**Кодификатор**  
элементов содержания и требований к уровню  
подготовки выпускников образовательных организаций  
для проведения  
единого государственного экзамена  
по истории

подготовлен Федеральным государственным бюджетным  
научным учреждением

«ФЕДЕРАЛЬНЫЙ ИНСТИТУТ ПЕДАГОГИЧЕСКИХ ИЗМЕРЕНИЙ»

## Раздел 1. Перечень элементов содержания, проверяемых на едином государственном экзамене по истории

Перечень элементов содержания, проверяемых на едином государственном экзамене по истории, составлен на основе раздела «Обязательный минимум содержания основных образовательных программ» Федерального компонента государственного стандарта среднего (полного) общего образования по истории (базовый и профильный уровни).

В первом столбце таблицы указан код раздела, которому соответствуют крупные блоки содержания. Во втором столбце приводится код элемента содержания, для которого создаются проверочные задания. Значком «\*» отмечены те элементы содержания, которые проверяются с привлечением знаний по всеобщей истории. В Приложении 1 дан список важнейших событий (процессов, явлений) истории зарубежных стран, знание которых может проверяться в заданиях 1 и 11 ЕГЭ 2020 г.

Жирным курсивом указаны крупные блоки содержания, которые ниже разбиты на более мелкие элементы.

Код раздела, темы	Код контролируемого элемента раздела, темы	Элементы содержания, проверяемые заданиями КИМ
<i>1</i>		<i>Древность и Средневековье</i>
	<i>1.1</i>	<i>Народы и древнейшие государства на территории России</i>
	<i>1.1.1*</i>	Восточнославянские племена и их соседи
	<i>1.1.2</i>	Занятия, общественный строй, верования восточных славян

**Раздел 2. Перечень требований к уровню подготовки выпускников, достижение которого проверяется на едином государственном экзамене по истории**

КИМ ЕГЭ по истории разрабатываются с опорой на требования к уровню подготовки выпускников, сформулированные в Федеральном компоненте государственного стандарта среднего (полного) общего образования по истории (базовый и профильный уровни) (приказ Минобрнауки России от 05.03.2004 № 1089).

Код требования	Требования к уровню подготовки выпускников, проверяемые на ЕГЭ
<b>1</b>	<i><b>Знать/понимать:</b></i>
1.1	основные факты, процессы и явления, характеризующие целостность отечественной и всемирной истории
1.2	периодизацию всемирной и отечественной истории
1.3	современные версии и трактовки важнейших проблем отечественной и всемирной истории
1.4	историческую обусловленность современных общественных процессов
1.5	особенности исторического пути России, ее роль в мировом сообществе
<b>2</b>	<i><b>Уметь:</b></i>
2.1	проводить поиск исторической информации в источниках разного типа
2.2	осуществлять внешнюю и внутреннюю критику источника (характеризовать авторство источника, время, обстоятельства, цели его создания, степень достоверности)
2.3	анализировать историческую информацию, представленную в разных знаковых системах (текст, карта, таблица, схема, аудиовизуальный ряд)



Список важнейших событий (процессов, явлений) истории зарубежных стран, знание которых может проверяться в заданиях 1 и 11 ЕГЭ 2017 г.

- падение Западной Римской империи
- возникновение государства франков
- правление Юстиниана в Византийской империи
- возникновение ислама
- возникновение государства у арабов
- провозглашение Карла Великого императором
- распад Франкской империи
- образование Священной Римской империи
- разделение христианской церкви на Восточную (православную) и Западную (католическую)
- нормандское завоевание Англии
- Крестовые походы
- захват Константинополя крестоносцами
- принятие Великой хартии вольности в Англии
- возникновение Английского парламента
- созыв Генеральных штатов во Франции
- Столетняя война
- Жакерия во Франции
- восстание под предводительством У. Тайлера в Англии
- битва на Косовом поле (1389 г.)
- Гуситские войны
- изобретение книгопечатания И. Гуттенбергом
- война Алой и Белой розы в Англии
- правление Людовика XI во Франции
- падение Византийской империи
- правление Генриха VII в Англии
- открытие Америки Христофором Колумбом
- завершение Реконксты на Пиренейском полуострове

**«УТВЕРЖДАЮ»**

Директор  
ФГБНУ «Федеральный институт  
педагогических измерений»




**О.А. Решетникова**

2019 г.

**«СОГЛАСОВАНО»**

Председатель  
Научно-методического совета  
ФГБНУ «ФИПИ» по истории



**Е.И. Пивовар**  
«23» октября 2019 г.

**Единый государственный экзамен по ИСТОРИИ**

**Демонстрационный вариант  
контрольных измерительных материалов единого  
государственного экзамена 2020 года  
по ИСТОРИИ**

подготовлен Федеральным государственным бюджетным  
научным учреждением

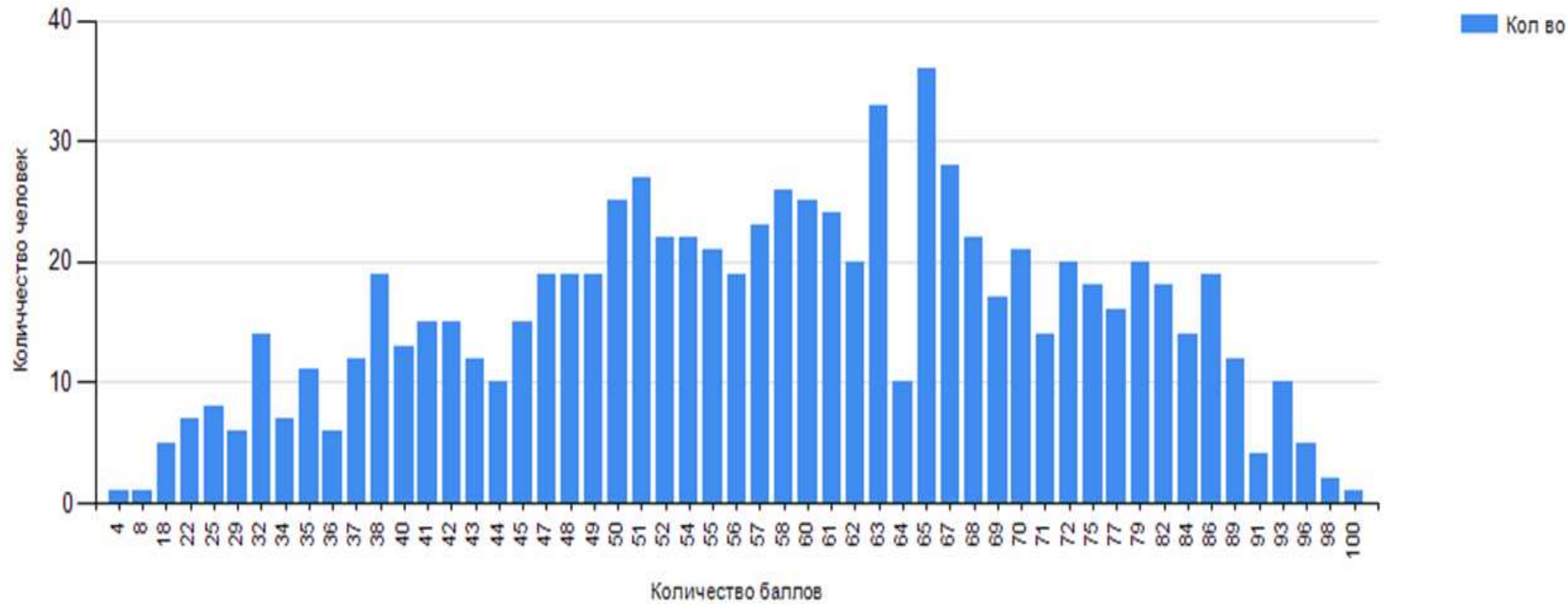
**«ФЕДЕРАЛЬНЫЙ ИНСТИТУТ ПЕДАГОГИЧЕСКИХ ИЗМЕРЕНИЙ»**

## Количество участников ЕГЭ по истории 2017 – 2019 гг.

2017		2018		2019	
чел.	% от общего числа участников	чел.	% от общего числа участников	чел.	% от общего числа участников
878	16,95	880	16,52	828	15,10

# Распределение тестовых баллов по предмету в 2019 г.

Диаграмма распределения участников по тестовым баллам



## Динамика результатов ЕГЭ по предмету за последние 3 года

	Субъект РФ		
	<u>2017 г.</u>	<u>2018 г.</u>	<u>2019 г.</u>
Не преодолели минимального балла	37	61	28
Средний тестовый балл	58,25	55,71	58,59
Получили от 81 до 99 баллов	95	80	84
Получили 100 баллов	1	1	1

# Результаты по группам участников экзамена с различным уровнем подготовки:

## А) с учетом категории участников ЕГЭ

	Выпускник прошлых лет	Выпускники текущего года, обучающиеся по программам СОО	Обучающийся образовательной организации среднего профессионального образования	Участник с ОВЗ
Доля участников набравших балл ниже минимального	11,84	2,17	20,00	0,00
Доля участников получивших тестовый балл от минимального	57,89	49,39	53,33	25,00
Доля участников получивших от 61 до 80 баллов	23,68	37,58	26,67	75,00
Доля участников получивших от 81 до 100 баллов	6,58	10,85	0,00	0,00
Количество выпускников получивших 100 баллов	0,00	1,00	0,00	0,00

## Результаты по группам участников экзамена с различным уровнем подготовки: с учетом типа ОО

	Доля участников, получивших тестовый балл				Количество участников, получивших 100 баллов
	ниже минимального	от минимального до 60 баллов	от 61 до 80 баллов	от 81 до 99 баллов	
Выпускники вечерних, центров и УКП	0	100	0	0	0
Выпускники гимназий	0	24,39	53,66	21,95	0
Выпускники лицеев	0	15,38	34,62	50	0
Выпускники СОШ	2,64	54,05	35,7	7,44	0,17
Выпускники СОШ с УГЛ	0	36,84	43,86	19,3	0
Остальные	12,24	54,08	27,55	6,12	0

## Удельный вес (в максимально возможных

Части работы	Количество заданий	Максимальный первичный балл	Процент максимального первичного балла за выполнение заданий данной части от максимального первичного балла за всю работу, равного 55	Тип заданий
Часть 1	19	31	56,4	С кратким ответом
Часть 2	6	24	43,6	С развёрнутым ответом
Итого	25	55	100	



**1** Расположите в хронологической последовательности исторические события. Запишите цифры, которыми обозначены исторические события, в правильной последовательности в таблицу.

- 1) Крымская война
- 2) реформа патриарха Никона
- 3) падение Византийской империи

Ответ: 

--	--	--

**2** Установите соответствие между событиями и годами: к каждой позиции первого столбца подберите соответствующую позицию из второго столбца.

СОБЫТИЯ	ГОДЫ
А) первое упоминание Москвы в летописи	1) 988 г.
Б) Карибский кризис	2) 1147 г.
В) Бородинская битва	3) 1662 г.
Г) Медный бунт	4) 1812 г.
	5) 1939 г.
	6) 1962 г.

Запишите в таблицу выбранные цифры под соответствующими буквами.

Ответ: 

А	Б	В	Г

**Результаты выполнения в 2019 г.**

**По РФ: 1 задание – 72,3; 2 задание - 64,5;**

**Вологодская область: 1 задание – 72,5; 2 задание - 75,0**

**3** Ниже приведён список терминов. Все они, за исключением двух, относятся к событиям (явлениям) XIX в.

- 1) *вольные хлебопашцы*; 2) *министерства*; 3) *декабристы*;  
4) *третьеиюньский переворот*; 5) *мировые судьи*; 6) *октябристы*.

Найдите и запишите порядковые номера терминов, относящихся к другому историческому периоду.

Ответ:

--	--

**4** Запишите термин, о котором идёт речь.

Основная часть территории России, не включённая в опричнину Иваном IV.

Ответ: \_\_\_\_\_.

**Результаты выполнения в 2019 г.**

**По РФ: 3 задание – 69,1%; 4 задание - 59,7%;**

**Вологодская область: 3 задание – 72,4%; 4 задание - 73,0%.**

**5**

Установите соответствие между процессами (явлениями, событиями) и фактами, относящимися к этим процессам (явлениям, событиям): к каждой позиции первого столбца подберите соответствующую позицию из второго столбца.

**ПРОЦЕССЫ (ЯВЛЕНИЯ,  
СОБЫТИЯ)**

- А) формирование и развитие законодательства Древнерусского государства
- Б) реформы Избранной рады
- В) проведение политики «просвещённого абсолютизма» в России
- Г) первые революционные преобразования большевиков

**ФАКТЫ**

- 1) созыв Уложенной комиссии
- 2) принятие Судебника Ивана III
- 3) созыв первого Земского собора
- 4) принятие Декрета о земле
- 5) принятие Русской Правды
- 6) создание Временного правительства

Запишите в таблицу выбранные цифры под соответствующими буквами.

Ответ:

А	Б	В	Г

**По РФ: 5 задание – 61,6%;**  
**Вологодская область: 5 задание – 69,0%.**

**6** Установите соответствие между фрагментами исторических источников и их краткими характеристиками: к каждому фрагменту, обозначенному буквой, подберите по две соответствующие характеристики, обозначенные цифрами.

ФРАГМЕНТЫ ИСТОЧНИКОВ	
А)	«Дворы, между коими заключён Парижский трактат... вместе с прочими государями и державами, им союзными... повелели своим полномочным составить... один главный трактат и присоединить к оному как неотдельные части все прочие положения конгресса. ...Герцогство Варшавское, за исключением тех областей и округов, коим в нижеследующих статьях положено иное назначение, навсегда присоединяется к Российской империи. Оно в силу своей конституции будет в неразрывной с Россией связи и во владении его величества императора всероссийского, наследников его и преемников на вечные времена. Его императорское величество предполагает даровать, по своему благоусмотрению, внутреннее устройство сему государству, имеющему состоять под особенным управлением. Его величество сообразно с существующим в рассуждении прочих его титулов обычаем и порядком присовокупит к оным и титул царя (короля) польского».
Б)	«Его королевское величество Свейское уступает сим за себя и своих потомков и наследников свейского престола и королевства Свейского его царскому величеству и его потомкам и наследникам Российского государства в совершенное неприкословное вечное владение и собственность в сей войне, чрез его царское величество оружия от короны Свейской завоёванные провинции: Лифляндию, Эстляндию, Ингерманландию и часть Карелии с дистриктом Выборгского лена. ...Против того же его царское величество обещает в 4 недели по размене ратификаций о сем мирном трактате или прежде, ежели возможно, его королевскому величеству и короне Свейской возвратить... Великое княжество Финляндское...»

**ХАРАКТЕРИСТИКИ**

- 1) Данный договор был подписан в Берлине.
- 2) По данному договору Россия получила выход к Балтийскому морю.
- 3) Данный договор был подписан в Вене.
- 4) Современником подписания данного договора был А.Л. Ордин-Нащокин.
- 5) Данный договор был подписан по результатам Северной войны.
- 6) На территории, присоединённой к России по данному договору, в начале 1830-х гг. произошло крупное восстание.

Запишите в таблицу выбранные цифры под соответствующими буквами.

Ответ:	Фрагмент А	Фрагмент Б



**Результаты выполнения в 2019 г.**

**По РФ:  
6 задание – 53,0%;  
Вологодская область:  
6 задание – 48,0%**

7

Что из перечисленного относится к новой экономической политике (1921–1928 гг.)? Выберите три ответа и запишите в таблицу цифры, под которыми они указаны.

- 1) утверждение частной собственности на землю
- 2) введение хозрасчёта на государственных предприятиях
- 3) денационализация тяжёлой промышленности
- 4) появление кредитно-банковской системы и бирж
- 5) отмена государственной монополии внешней торговли
- 6) введение концессий

Ответ:

--	--	--

8

Заполните пропуски в данных предложениях, используя приведённый ниже список пропущенных элементов: для каждого предложения, обозначенного буквой и содержащего пропуск, выберите номер нужного элемента.

А) \_\_\_\_\_ конференция «Большой тройки» проходила в 1943 г.

Б) Один из первых таранов в ночном воздушном бою произвёл советский лётчик \_\_\_\_\_, сбивший на подступах к Москве вражеский бомбардировщик.

В) В ходе Курской битвы произошло крупнейшее танковое сражение у \_\_\_\_\_.

Пропущенные элементы:

- 1) Ялтинская (Крымская)
- 2) Н.Ф. Гастелло
- 3) станция Прохоровка
- 4) Тегеранская
- 5) В.В. Талалихин
- 6) разъезд Дубосеково

Запишите в таблицу выбранные цифры под соответствующими буквами.

Ответ:

А	Б	В

**Результаты  
выполнения  
в 2019 г.**

**По РФ:**  
 7 задание –  
 62,9%;  
 8 задание -  
 61,8%;  
**Вологодская  
 область:**  
 7 задание –  
 58,4%;  
 8 задание -  
 70,4%

Установите соответствие между событиями и участниками этих событий. к каждой позиции первого столбца подберите соответствующую позицию из второго столбца.

### СОБЫТИЯ

- А) Ледовое побоище
- Б) Ливонская война
- В) Полтавская битва
- Г) разгром армии П.Н. Врангеля в Крыму

### УЧАСТНИКИ

- 1) М.Д. Скобелев
- 2) Андрей Боголюбский
- 3) А.М. Курбский
- 4) Александр Невский
- 5) А.Д. Меншиков
- 6) М.В. Фрунзе

Запишите в таблицу выбранные цифры под соответствующими буквами.

Ответ:

А	Б	В	Г

10

Прочтите отрывок из воспоминаний и напишите фамилию автора.

«Я видел не только бесполезность, но и вред совмещения постов, и я даже ссылаясь: "Представьте моё положение: я критиковал Сталина за совмещение в одном лице двух таких ответственных постов в государстве и в партии,

а теперь сам..." Выношу этот вопрос на суд историков. Сказалась моя слабость, а может быть, подтачивал меня внутренний червячок, ослабляя моё сопротивление. Ещё до того, как я стал Председателем Совета Министров СССР, Булганин внёс предложение назначить меня как Первого секретаря ЦК КПСС Главнокомандующим вооружёнными силами. Тем более что в Президиуме ЦК военные вопросы, армия, вооружение относились к моей епархии. Это произошло без публикации в печати и было решено сугубо внутренним образом, на случай войны. Внутри вооружённых сил об этом известили высший командный состав».

Ответ: \_\_\_\_\_

**Результаты  
выполнения в 2019  
г.**

**По РФ:**

**9 задание – 62%;**

**10 задание - 58,8%;**

**Вологодская  
область:**

**9 задание – 66,8%;**

**10 задание - 61,4%**

11

Заполните пустые ячейки таблицы, используя приведённый ниже список пропущенных элементов: для каждого пропуска, обозначенного буквой, выберите номер нужного элемента.

Век	Событие истории России	Событие истории зарубежных стран
XIX в.	_____ (А)	Создание Тройственного союза
_____ (Б)	Начало княжения в Киеве Владимира Мономаха	Третий крестовый поход
_____ (В)	Присоединение Псковской земли к Московскому княжеству	_____ (Г)
XVIII в.	_____ (Д)	_____ (Е)

Пропущенные элементы:

- 1) принятие конституции США
- 2) XVI в.
- 3) гражданская война в Англии
- 4) «стояние» на реке Угре
- 5) присоединение Крыма к Российской империи
- 6) XII в.
- 7) XIV в.
- 8) отмена крепостного права в России
- 9) выступление М. Лютера с 95 тезисами, начало Реформации в Германии

Запишите в таблицу выбранные цифры под соответствующими буквами.

А	Б	В	Г	Д	Е
<input type="text"/>	<input type="text"/>	<input type="text"/>	<input type="text"/>	<input type="text"/>	<input type="text"/>

Ответ:

12

Прочтите отрывок из телеграммы военачальника.

«Все отлично сознавали, что при создавшейся обстановке и при фактическом руководстве и направлении внутренней политики безответственными общественными организациями, а также громадного разлагающего влияния этих организаций на массу армии последнюю воссоздать не удастся, а наоборот, армия как таковая должна развалиться через два-три месяца. И тогда Россия должна будет заключить позорный сепаратный мир, последствия которого были бы для России ужасны. Правительство принимало полумеры, которые, ничего не поправляя, лишь затягивали агонию, и, спасая революцию, не спасало Россию. Между тем завоевания революции можно было спасти лишь путём спасения России, а для этого прежде всего необходимо создать действительную сильную власть и оздоровить тыл. Генерал Корнилов предъявил ряд требований, проведение коих в жизнь затягивалось. При таких условиях генерал Корнилов, не преследуя никаких личных честолюбивых замыслов и опираясь на ясно выраженное сознание всей здоровой части общества и армии, требовавшее скорейшего создания крепкой власти для спасения Родины, а с ней и завоеваний революции, считал необходимыми более решительные меры, кои обеспечили бы водворение порядка в стране...»

Используя отрывок и знания по истории, выберите в приведённом списке три верных суждения.

Запишите в таблицу цифры, под которыми они указаны.

- 1) Описанные в телеграмме события произошли в 1916 г.
- 2) Правительство, о котором идёт речь в телеграмме, называлось СНК.
- 3) Автор телеграммы – сторонник продолжения войны с Германией.
- 4) Автор телеграммы поддерживал действия генерала Корнилова.
- 5) Большевики поддерживали действия генерала Корнилова.
- 6) «Решительные меры» генерала Корнилова, которые указаны в телеграмме, не были осуществлены.

Ответ:

<input type="text"/>	<input type="text"/>	<input type="text"/>
----------------------	----------------------	----------------------

**Результаты выполнения в 2019 г.**

**По РФ: 11 задание – 60,7%; 12 задание - 57,4%;**

**Вологодская область: 11 задание – 57,7%; 12 задание - 59,3%**



13 Укажите век, когда произошли события, обозначенные на схеме стрелками. Ответ запишите словом.

Ответ: \_\_\_\_\_.

14 Укажите имя князя, походы которого обозначены в легенде схемы цифрой «1».

Ответ: \_\_\_\_\_.

Результаты выполнения в 2019 г.

По РФ:  
13 задание – 60,3%;  
14 задание - 52,7%;  
Вологодская область:

13 задание – 75,0%;  
14 задание - 59,7%



**15** Укажите название торгового пути, обозначенного на схеме цифрой «3».

Ответ: \_\_\_\_\_.

**16** Какие суждения, относящиеся к исторической ситуации, обозначенной на схеме, являются верными? Выберите три суждения из шести предложенных. Запишите в таблицу цифры, под которыми они указаны.

- 1) Цифрой «5» на схеме обозначен город Новгород.
- 2) В ходе событий, обозначенных на схеме стрелками, русское войско взяло город Перемышль.
- 3) В городе, обозначенном на схеме цифрой «6», согласно Повести временных лет принял крещение киевский князь Владимир.
- 4) На схеме обозначен политико-административный центр восточнославянского племенного союза древлян.
- 5) Цифрой «4» на схеме обозначена столица Волжской Булгарии.
- 6) Киевский князь Олег совершил поход, обозначенный в легенде схемы цифрой «2».

Ответ:

--	--	--

**Результаты выполнения в 2019 г.**

**По РФ: 15 задание – 55,1%; 16 задание - 50,3%;**

**Вологодская область: 15 задание – 53,7%; 16 задание - 54,6%.**

17

Установите соответствие между памятниками культуры и их краткими характеристиками: к каждой позиции первого столбца подберите соответствующую позицию из второго столбца.

## ПАМЯТНИКИ КУЛЬТУРЫ

- А) «Слово о полку Игореве»  
 Б) «Домострой»  
 В) картина «Боярыня Морозова»  
 Г) роман «Тихий Дон»

## ХАРАКТЕРИСТИКИ

- 1) Автор – И.Е. Репин.  
 2) Произведение было написано в период руководства СССР Л.И. Брежнева.  
 3) Автор – священник Сильвестр.  
 4) Описываемые события произошли в XII в.  
 5) Автору была присуждена Нобелевская премия.  
 6) Сюжет иллюстрирует события церковного раскола.

Запишите в таблицу выбранные цифры под соответствующими буквами.

Ответ:

А	Б	В	Г

**Результаты выполнения в 2019 г.**

**По РФ: 17 задание – 44,7%;**

**Вологодская область: 17 задание – 51,7%.**



18

Какие суждения о данной марке являются верными? Выберите два суждения из пяти предложенных. Запишите в таблицу цифры, под которыми они указаны.

- 1) Военачальник, изображённый на марке, подвергся репрессиям.
- 2) Военачальник, изображённый на марке, родился в период правления в России Николая II.
- 3) События, изображённые на марке стрелками, произошли в ходе Первой мировой войны.
- 4) Военачальник, изображённый на марке, был участником Великой Отечественной войны.
- 5) Данная марка была выпущена в период руководства СССР Н.С. Хрущёва.

Ответ:

--	--

Результаты  
выполнения в  
2019 г.

По РФ:

18 задание –  
49,8%;

Вологодская  
область:

18 задание –  
54,4%.

19

Какие из представленных монет посвящены юбилеям событий, произошедших при жизни военачальника, изображённого на марке? В ответе запишите две цифры, которыми обозначены эти монеты.



Результаты  
выполнения  
в 2019 г.

По РФ:  
19 задание –  
55,6%;  
Вологодская  
область:  
19 задание –  
59,0%.

Ответ:

--	--

**Для записи ответов на задания этой части (20–25) используйте БЛАНК ОТВЕТОВ № 2. Запишите сначала номер задания (20, 21 и т. д.), а затем развёрнутый ответ на него. Ответы записывайте чётко и разборчиво.**

**Прочтите отрывок из исторического источника и кратко ответьте на вопросы 20–22. Ответы предполагают использование информации из источника, а также применение исторических знаний по курсу истории соответствующего периода.**

*Прочтите отрывок из воспоминаний политического деятеля.*

«Второй Съезд народных депутатов СССР по накалу страстей, митинговой активности депутатов мало чем отличался от первого, но всё же накопленный опыт, подготовительная работа позволили придать ему большую организованность и деловитость...

За две недели Съезд заслушал и обсудил доклад Рыжкова о мерах по оздоровлению экономики, этапах экономической реформы и принципиальных подходах к разработке тринадцатого пятилетнего плана, принял Закон об изменениях и дополнениях Конституции по вопросам избирательной системы в связи с предстоящими выборами народных депутатов в республиках и на местах...

...К тому моменту активная позиция в реформировании и оздоровлении экономики была в значительной степени утрачена: не выработанная центром стратегия задавала тон, а, наоборот, планы и действия центра приноравливались к спонтанным экономическим процессам и популистским требованиям. Программа экономических реформ 1987 года фактически оказалась похороненной, о ней вспоминали всё реже. Главное же, был выпущен из рук контроль за наличной денежной массой, за денежными доходами населения, дан сильнейший толчок раскручиванию инфляционной спирали, остановить который дальше оказалось всё труднее.

Доклад Правительства подвергся на Съезде ожесточённой критике, и не только со стороны оппозиционно настроенных депутатов. [Руководитель страны], естественно, защищал его. Началась очень трудная для Правительства полоса. В печати, на съездах и сессиях Верховного Совета постоянно маячил вопрос об отставке Правительства... Но главное, конечно, накатывающиеся волны забастовочного движения, вызываемые прежде всего дезорганизацией рынка, товарного и денежного обращения, острой нехваткой самого необходимого для людей...

Работа Съезда была омрачена кончиной [выдающегося исторического деятеля]. 15 декабря не стало этого выдающегося, неповторимого человека. Огромная потеря не только для науки, но и для человеческой цивилизации в целом, для демократического процесса в стране. Об этом я говорю с полной ответственностью и откровенностью, несмотря на то, а может быть, именно поэтому, что академик стоял в оппозиции к тогдашнему партийно-государственному руководству, оказывал лишь, как он сам говорил,

условную поддержку [руководителю страны], не спуская ему ни одного, с его точки зрения, ошибочного или опрометчивого шага».

20

Укажите название периода истории СССР, о событиях которого идёт речь в данном отрывке. Укажите руководителя СССР в этот период. Укажите исторического деятеля, о смерти которого идёт речь в отрывке.

21

Какие факты, свидетельствующие о наступлении социально-экономического и политического кризиса в стране, называет автор? Укажите любые три факта.

При ответе избегайте цитирования избыточного текста, не содержащего положений, которые должны быть приведены по условию задания.

22

Укажите название партийного органа, созданного впервые после 1941 г., в решениях которого были заложены основы преобразований политической системы страны. Какие политические решения были приняты следующим после названного в отрывке Съездом народных депутатов? Укажите два решения.

## Результаты выполнения в 2019 г.

По РФ: 20 задание – 50,9%; 21 задание - 76,2%;  
22 задание – 32,4%

Вологодская область: 20 задание – 50,6%; 21 задание - 80,8%;  
22 задание – 39,7%

20

Укажите название периода истории СССР, о событиях которого идёт речь в данном отрывке. Укажите руководителя СССР в этот период. Укажите исторического деятеля, о смерти которого идёт речь в отрывке.

Содержание верного ответа и указания по оцениванию (допускаются иные формулировки ответа, не искажающие его смысла)	Баллы
<p>Правильный ответ должен содержать следующие <u>элементы</u>:</p> <ol style="list-style-type: none"> <li>1) <u>период</u> – «перестройка»;</li> <li>2) <u>руководитель СССР</u> – М.С. Горбачёв;</li> <li>3) <u>исторический деятель</u> – А.Д. Сахаров.</li> </ol> <p><i>Каждый элемент может быть засчитан только при условии отсутствия неверных позиций наряду с верной</i></p>	
Правильно указаны название периода, руководитель СССР, исторический деятель	2
Правильно указаны любые два элемента ответа	1
Правильно указан один любой элемент ответа.	0
ИЛИ Ответ неправильный	
<i>Максимальный балл</i>	2

21

Какие факты, свидетельствующие о наступлении социально-экономического и политического кризиса в стране, называет автор? Укажите любые три факта.

При ответе избегайте цитирования избыточного текста, не содержащего положений, которые должны быть приведены по условию задания.

Содержание верного ответа и указания по оцениванию (допускаются иные формулировки ответа, не искажающие его смысла)	Баллы
<p>Правильный ответ должен содержать следующие <u>факты</u>:</p> <ol style="list-style-type: none"> <li>1) Правительство утратило активную позицию в реформировании и оздоровлении экономики (программа экономической реформы 1987 г. провалилась);</li> <li>2) Правительство потеряло контроль над ростом денежной массы и инфляцией;</li> <li>3) доклад Правительства на Съезде подвергся критике не только со стороны оппозиции;</li> <li>4) в прессе поднимался вопрос об отставке Правительства;</li> <li>5) росло забастовочное движение;</li> <li>6) наблюдалась дезорганизация рынка, товарного и денежного обращения;</li> <li>7) нарастал дефицит товаров первой необходимости.</li> </ol> <p>Ответ может быть представлен как в форме цитат, так и в форме сжатого воспроизведения основных идей соответствующих фрагментов текста.</p>	

Поскольку в задании требуется найти в тексте данную в явном виде конкретную информацию, <b>не засчитывается при оценивании</b> переписанный целиком объёмный отрывок текста, включающий наряду с верным элементом избыточную информацию	
Правильно указаны три факта	2
Правильно указаны два факта	1
Правильно указан один факт. ИЛИ Ответ неправильный	0
<i>Максимальный балл</i>	2

- 22 Укажите название партийного органа, созданного впервые после 1941 г., в решениях которого были заложены основы преобразований политической системы страны. Какие политические решения были приняты следующим после названного в отрывке Съездом народных депутатов? Укажите два решения.

Содержание верного ответа и указания по оцениванию (допускаются иные формулировки ответа, не искажающие его смысла)	Баллы
Правильный ответ должен содержать следующие <u>элементы</u> : 1) <u>партийный орган</u> – XIX партконференция; 2) <u>решения</u> : – введение поста Президента СССР; – избрание Президентом СССР М.С. Горбачёва; – избрание Председателем Верховного Совета СССР А.И. Лукьянова; – внесение поправок в Конституцию СССР, отменивших однопартийную систему в стране. (Могут быть указаны другие решения.)	
Правильно указаны партийный орган и два решения	2
Правильно указаны партийный орган и одно решение. ИЛИ Правильно указаны два решения	1
Правильно указан партийный орган. ИЛИ Правильно указано только одно решение. ИЛИ Ответ неправильный	0
<i>Максимальный балл</i>	2

- 23 Процесс политической раздробленности русских земель в XII–XIII вв. сопровождался упадком роли и значения земель Среднего Поднепровья – исторического ядра Древнерусского государства – в политической и экономической жизни Руси. Назовите любые три причины этого упадка.

Содержание верного ответа и указания по оцениванию (допускаются иные формулировки ответа, не искажающие его смысла)	Баллы
Могут быть названы следующие <u>причины</u> : 1) борьба между князьями за великое киевское княжение разоряла эти земли; 2) из-за угрозы со стороны кочевников и ослабления Византии пришла в упадок торговля по пути «из варяг в греки»; 3) в условиях раздробленности разрушалась система оборонительных линий, созданных князем Владимиром Святославичем для защиты этих земель; 4) в междоусобной борьбе князья привлекали на свою сторону кочевников, отчего в первую очередь страдали южные земли; 5) из-за угрозы набегов кочевников происходил отток населения из Среднего Поднепровья. Могут быть названы другие причины	
Правильно названы три причины	3
Правильно названы две причины	2
Правильно названа только одна причина	1
Приведены рассуждения общего характера, не соответствующие требованию задания. ИЛИ Ответ неправильный	0
<i>Максимальный балл</i>	3



**23** Процесс политической раздробленности русских земель в XII–XIII вв. сопровождался упадком роли и значения земель Среднего Поднепровья – исторического ядра Древнерусского государства – в политической и экономической жизни Руси. Назовите любые три причины этого упадка.

**24** По историческим вопросам высказываются различные, часто противоречивые точки зрения. Ниже приведена одна из противоречивых точек зрения.

*«Внутренняя политика Александра III способствовала прогрессивному развитию социальной и экономической сфер общественной жизни».*

Используя исторические знания, приведите два аргумента, которыми можно подтвердить данную точку зрения, и два аргумента, которыми можно опровергнуть её. При изложении аргументов обязательно используйте исторические факты.

Ответ запишите в следующем виде.

Аргументы в подтверждение:

1) ...

2) ...

Аргументы в опровержение:

1) ...

2) ...

**Результаты выполнения в 2019 г.**

**По РФ: 23 задание – 40,1%; 24 задание - 18,3%;**

**Вологодская область: 23 задание – 36,3%; 24 задание - 19,0%.**

По историческим вопросам высказываются различные, часто противоречивые точки зрения. Ниже приведена одна из противоречивых точек зрения.

*«Внутренняя политика Александра III способствовала прогрессивному развитию социальной и экономической сфер общественной жизни».*

Используя исторические знания, приведите два аргумента, которыми можно подтвердить данную точку зрения, и два аргумента, которыми можно опровергнуть её. При изложении аргументов обязательно используйте исторические факты.

Ответ запишите в следующем виде.

Аргументы в подтверждение:

- 1) ...
- 2) ...

Аргументы в опровержение:

- 1) ...
- 2) ...

Содержание верного ответа и указания по оцениванию (допускаются иные формулировки ответа, не искажающие его смысла)	Баллы
<p>Правильный ответ должен содержать <u>аргументы</u>:</p> <p>1) <u>в подтверждение</u>, например:</p> <ul style="list-style-type: none"> <li>– при Александре III в деревне постепенно изживались остатки крепостничества (снижение выкупных платежей, ликвидация временнообязанного состояния крестьян);</li> <li>– при Александре III постепенно менялась устаревшая система налогообложения (отмена подушной подати);</li> <li>– в 1882 г. правительство учредило Крестьянский поземельный банк, который выдавал ссуды на покупку земли крестьянам, что способствовало распространению частной поземельной собственности среди крестьян;</li> <li>– в период правления Александра III начало формироваться рабочее законодательство (законы об ограничении труда подростков и женщин на производстве, о правилах найма и увольнения рабочих);</li> <li>– протекционистская политика правительства Александра III способствовала бурному развитию промышленности (завершился промышленный переворот, в 2 раза выросло количество паровых двигателей, увеличилась добыча угля и нефти, в ряде регионов страны выросли крупные промышленные центры (Баку, Юзовка, Ижевск, Орехово-Зуево) и др.);</li> <li>– в период правления Александра III отмечен интенсивный рост протяжённости железных дорог, начато строительство Транссибирской магистрали;</li> </ul>	

2) в опровержение, например:

- законодательство Александра III в отношении земств резко снизило долю не дворян в их составе, сузив таким образом социальную базу земств;
  - по новому «Городовому положению» был значительно повышен имущественный ценз для участия в выборах в городские думы; таким образом, от участия в городском самоуправлении были отстранены не только трудящиеся массы города, но и мелкая буржуазия, что вступало в противоречие с быстрым процессом урбанизации, проходившим в тот период;
  - изменения в системе образования (подчинение сельских школ Синоду, циркуляр «о кухаркиных детях») резко сузили возможности для получения образования выходцам из низших сословий и препятствовали удовлетворению нужд быстрорастущей российской экономики в образованных специалистах;
  - при Александре III был учреждён Дворянский земельный банк, который выдавал ссуды помещикам под залог их земель на льготных условиях; поддержка дворян, которые, как правило, «проедали» выданные банком деньги, а не вкладывали их в производство, тормозила процесс перехода помещичьих земель к состоятельным крестьянам, эффективнее использовавшим сельскохозяйственные угодья;
  - законодательство Александра III консервировало крестьянскую общину (запрещались семейные разделы, и ограничивался досрочный выкуп наделов), что тормозило развитие деревни.
- Могут быть приведены другие аргументы

Приведены два аргумента в подтверждение и два в опровержение оценки	4
Приведены два аргумента в подтверждение и один в опровержение оценки. ИЛИ Приведены один аргумент в подтверждение и два в опровержение оценки	3
Приведены один аргумент в подтверждение и один в опровержение оценки	2
Приведены только два аргумента в подтверждение оценки. ИЛИ Приведены только два аргумента в опровержение оценки	1
Приведён только один любой аргумент. ИЛИ Приведены только факты, иллюстрирующие события (явления, процессы), связанные с данной точкой зрения, но не являющиеся аргументами. ИЛИ Приведены рассуждения общего характера, не соответствующие требованию задания. ИЛИ Ответ неправильный	0
<i>Максимальный балл</i>	4

Вам необходимо написать историческое сочинение об ОДНОМ из периодов истории России:

1) 1019–1054 гг.; 2) март 1801 г. – май 1812 г.; 3) октябрь 1917 г. – октябрь 1922 г.

В сочинении необходимо:

- указать не менее двух значимых событий (явлений, процессов), относящихся к данному периоду истории;
- назвать две исторические личности, деятельность которых связана с указанными событиями (явлениями, процессами), и, используя знание исторических фактов, охарактеризовать роли названных Вами личностей в этих событиях (явлениях, процессах);

*Внимание!*

*При характеристике роли каждой названной Вами личности необходимо указать конкретные действия этой личности, в значительной степени повлиявшие на ход и (или) результат указанных событий (процессов, явлений).*

- указать не менее двух причинно-следственных связей, характеризующих причины возникновения событий (явлений, процессов), происходивших в данный период;
- используя знание исторических фактов и (или) мнений историков, оценить влияние событий (явлений, процессов) данного периода на дальнейшую историю России.

В ходе изложения необходимо корректно использовать исторические термины, понятия, относящиеся к данному периоду.

## Результаты выполнения в 2019г.

По РФ:

**K1 – 81,5%**

**K2 – 36,1%**

**K3 – 47,1%**

**K4 – 30,6%**

**K5 – 81,4%**

**K6 – 27,1%**

**K7 – 51,0%**

**Вологодская область:**

**K1 – 86,3%**

**K2 – 38,8%**

**K3 – 55,5%**

**K4 – 38,2%**

**K5 – 86,5%**

**K6 – 28,7%**

**K7 – 60,8%**



*Проверьте, чтобы каждый ответ был записан рядом с номером соответствующего задания.*

В случае, когда исторические события (явления, процессы) не указаны или все указанные исторические события (явления, процессы) не относятся к выбранному периоду, ответ оценивается **0 баллов** (по каждому из критериев К1–К7 выставляется 0 баллов).

№	Критерии оценивания	Баллы
К1	<b>Указание событий (явлений, процессов)</b>	<b>2</b>
	Правильно указаны два события (явления, процесса)	2
	Правильно указано одно событие (явление, процесс)	1
	События (явления, процессы) не указаны или указаны неверно	0
К2	<b>Исторические личности и их роль в указанных событиях (явлениях, процессах) данного периода истории</b>	<b>2</b>
	Правильно названы две исторические личности; правильно охарактеризована роль каждой из этих личностей с указанием их конкретных действий, в значительной степени повлиявших на ход и (или) результат названных событий (явлений, процессов) рассматриваемого периода истории России	2
	Правильно названы одна-две исторические личности; правильно охарактеризована роль только одной личности с указанием её конкретных действий (или конкретного действия), в значительной степени повлиявших на ход и (или) результат названных событий (явлений, процессов) рассматриваемого периода истории России (или одного события (явления, процесса))	1
	Правильно названы одна-две исторические личности, роль каждой из них в указанных событиях (явлениях, процессах) данного периода истории России не охарактеризована / охарактеризована неправильно. ИЛИ Правильно названы одна-две исторические личности; при характеристике роли каждой из них в указанных событиях (явлениях, процессах) данного периода истории России приведены рассуждения общего характера без указания их конкретных действий, в значительной степени повлиявших на ход и (или) результат названных событий (явлений, процессов) рассматриваемого периода истории России. ИЛИ Исторические личности названы неверно. ИЛИ Исторические личности не названы	0
К3	<b>Причинно-следственные связи</b>	<b>2</b>
	<i>По данному критерию не засчитываются причинно-следственные связи, названные при указании роли личности и засчитанные по критерию К2</i>	
	Правильно указаны две причинно-следственные связи,	2

	характеризующие причины возникновения событий (явлений, процессов), происходивших в данный период	
	Правильно указана одна причинно-следственная связь, характеризующая причину возникновения событий (явлений, процессов), происходивших в данный период	1
	Причинно-следственные связи указаны неверно / не указаны	0
К4	<b>Оценка влияния событий (явлений, процессов) данного периода на дальнейшую историю России</b>	<b>1</b>
	Дана оценка влияния событий (явлений, процессов) данного периода на дальнейшую историю России с опорой на исторические факты и (или) мнения историков	1
	Оценка влияния событий (явлений, процессов) данного периода на дальнейшую историю России сформулирована в общей форме или на уровне обыденных представлений, без привлечения исторических фактов и (или) мнений историков. ИЛИ Оценка влияния событий (явлений, процессов) данного периода на дальнейшую историю России не дана	0
К5	<b>Использование исторической терминологии</b>	<b>1</b>
	При изложении корректно использована историческая терминология	1
	Все исторические термины, понятия использованы некорректно. ИЛИ Исторические термины, понятия не использованы	0
К6	<b>Наличие фактических ошибок.</b> <i>1, 2 или 3 балла по критерию К6 может быть выставлено только в случае, если по критериям К1–К4 выставлено в сумме не менее 5 баллов</i>	<b>3</b>
	В историческом сочинении отсутствуют фактические ошибки	3
	Допущена одна фактическая ошибка	2
	Допущено две фактические ошибки	1
	Допущено три или более фактические ошибки	0
К7	<b>Форма изложения.</b> <i>1 балл по критерию К7 может быть выставлен только в случае, если по критериям К1–К4 выставлено в сумме не менее 5 баллов</i>	<b>1</b>
	Ответ представлен в виде исторического сочинения (последовательное, связное изложение материала)	1
	Ответ представлен в виде отдельных отрывочных положений	0
<i>Максимальный балл</i>		<b>12</b>

- Спасибо за внимание!